


















פרחים במשבצת

לוח חיבור- מספרים עשרוניים


המספרים המופיעים בלוח הם הסכומים של ערך הפרחים בכל טור ובכל שורה.
חשבו את ערכו של כל פרח בלוח. היעזרו בנתונים שלפניכם.

פרטו חישובים ודרך פתרון.


 ג	 ב	 ב	 א	23
 ג	 ב	 א	 ד	22.3
 ג	 א	 ג	 ד	20.8
 ג	 ד	 א	 ד	21.6
20.8	23.8	20.7	22.4	סכום




ד



ג



ב



א
